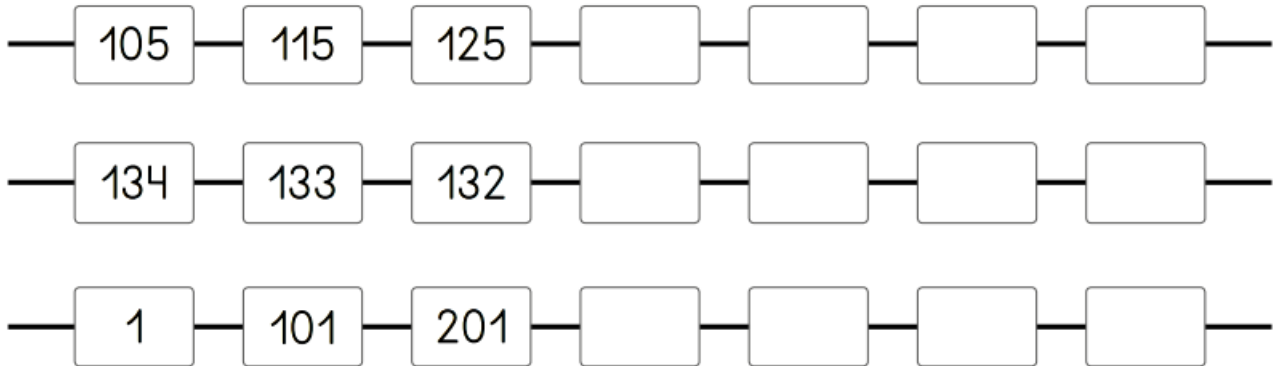




GUÍA DE MATEMÁTICA N° 2 Retroalimentación
"Números y operaciones"

NOMBRE		CURSO	3°A - B
		FECHA	/ / 21
Capacidad: Razonamiento lógico. Habilidades: Identificar, contar, secuenciar			
Capacidad: Resolución de problemas. Habilidades: calcular, resolver			
OA11 N 1- OA 1- OA12 - OA7 N2			
INSTRUCCIONES: Imprimir esta guía para trabajarla en nuestras clases virtuales, Una vez realizada debes pegarla en el cuaderno. Si no puedes imprimirla realiza el desarrollo en tu cuaderno.			

1- Cuenta y completa:



2.- Hay 9 bolsas con 2 caramelos en cada una. ¿cuántos caramelos hay?



Frase numérica:

Respuesta: Hay _____ caramelos

3.- Calcula las multiplicaciones:

a) $6 \cdot 10 = \square$

c) $3 \cdot 2 = \square$

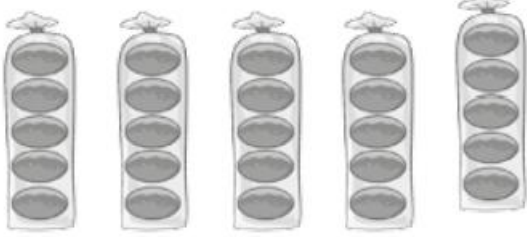
b) $9 \cdot 5 = \square$

d) $3 \cdot 5 = \square$

4.- Inventa un problema para 8×10



5.- Tengo 5 bolsas con 5 panes en cada una ¿Cuántos panes tengo en total?



Frase numérica:

Respuesta: Tengo _____ panes


6.- Tengo 7 cajas con 2 caramelos cada una ¿cuántos caramelos tengo en total?

Representación:

Frase numérica:

Respuesta: Tengo _____ caramelos

7.- Cuenta los lápices



Hay _____ lápices

8.- Cuenta las pelotas:



Hay _____ pelotas