




GUÍA DE MATEMÁTICA N° 1 retroalimentación


“Números y operaciones”

NOMBRE	CURSO	3°A - B
	FECHA	/ / 21
Capacidad: Razonamiento lógico. Habilidades: contar Capacidad: Resolución de problemas. Habilidades: calcular, resolver OA9 N 1- OA 1 N2		
INSTRUCCIONES: Imprimir esta guía para trabajarla en nuestras clases virtuales, Una vez realizada debes pegarla en el cuaderno. Si no puedes imprimirla realiza el desarrollo en tu cuaderno.		


1- Cada bloque multibase del dibujo representa 100 ¿qué cantidad está representada en total?



Respuesta: Hay _____

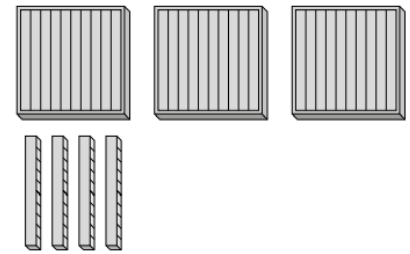


2- ¿Cuántas hojas hay?




Respuesta: Hay _____ hojas

3- ¿Qué cantidad está representada por los bloques multibase?




Respuesta: Hay _____

4- Resta. Observa el ejemplo:



5- Suma. Observa el ejemplo:



6.- Había 13 personas en el bus. Bajaron 5 ¿Cuántas personas quedan?

Frase numérica

Respuesta: _____