

EVALUACIÓN DIAGNÓSTICA HISTORIA

Nombre del estudiante:		Curso: 2º básico _
Capacidad: O. Espacial y temporal. Habilidad: Secuenciar temporalmente acontecimientos. Ubicar a Chile en el mapa de América. Diferenciar días de la semana y fines de semana. Capacidad: Análisis de fuentes gráficas. Habilidad: Analizar y evaluar normas de convivencia, símbolos patrios y la función de algunas instituciones.		Fecha: 10/03/21 Puntaje total: 27pts Puntaje obt:

INSTRUCCIONES:

- Escucha con atención las instrucciones.
- Escribe en una hoja blanca el siguiente título EVALUACIÓN DIAGNOSTICA HISTORIA y abajo registra tus datos (nombre completo, curso y fecha)
- Escucha cada pregunta o enunciado y luego responde en tu hoja de respuesta.
- Missmassiel.historia@gmail.com enviar e este correo las evaluaciones (foto) nombre – curso 956862543 SOLO en caso de duda


1. Observa las escenas de cada recuadro y escribe 1, 2, 3 según el orden que ocurren durante el año. (3 PUNTOS)




2. Dibuja y colorea la bandera nacional de Chile. (2 PUNTOS)




3. Observa las imágenes y escribe los nombres de los animales que aparecen en el escudo nacional. (2 PUNTOS)



4. A-Escribe los números de las imágenes donde los estudiantes no cumplen con las normas del respeto (2 PUNTOS)



4. B- Escribe los números de las imágenes donde los estudiantes muestran respeto y compañerismo (2 PUNTOS)



5- Dibuja la secuencia de vida del ser humano (4 PUNTOS)

--	--	--	--

6- Relaciona las imágenes de cada trabajador completando el número que le corresponde a su lugar de trabajo (3 puntos)





Lee las siguientes situaciones problemáticas y escribe la letra de la alternativa correcta. (3 puntos)

7- Si me duele un muela porque tiene una picadura, debo ir al: _____

- a) Mecánico
- b) Doctor
- c) Dentista
- d)

8- Hay ancianos que no tienen un hogar para dormir ¿A quién puedo recurrir? Escribe la alternativa correcta _____

- a) Hospital
- b) Hogar de Cristo
- c) Carabineros

9- ¿Cuántos meses tiene el año? Escribe la alternativa correcta _____

- a) 12
- b) 10
- c) 7

10- Dibuja en cada recuadro las actividades que realizas durante el día (3 puntos)

¿Qué actividad realizas temprano en la mañana? HOY EN LA MAÑANA	¿Qué actividad estas realizando en este momento? AHORA	¿Qué actividad realizarás más tarde? MÁS TARDE

11- Observa las imágenes y escribe si la acción la realiza de lunes a viernes o fin de semana (2 puntos)



Hacer los deberes



Ver televisión

12- Ubica a Chile en el mapa, puedes DIBUJAR SU FORMA EN TU HOJA (1 PUNTO)

