

Ámbito: Interacción y Comprensión del Entorno.
Núcleo: Pensamiento Matemático.
Capacidad: Razonamiento Lógico
Habilidad: Resolver



❖ ACTIVIDAD PARA REALIZAR EN NUESTRAS CLASES ONLINE.

Semana del 23 al 26 de noviembre según horario.

Instrucciones: Escucha con atención el problema y luego resuelve.

- No olvidar enviar la guía de trabajo al correo que se mencionará a continuación.

debo.hsalinas08@gmail.com


Educadora Pre-kínder A

carlaogaldepalacios@gmail.com

Educadora Pre-kínder B



Eric, el erizo, encontró 7 manzanas debajo de un árbol.



Como estaba hambriento, se comió 4 manzanas en el almuerzo.

Tacha las manzanas que se comió el erizo.

Escribe los números y resuelve la operación.

$$\square - \square = \square$$

¿Cuántas manzanas le sobraron para la cena?

Ámbito: Interacción y Comprensión del Entorno.
Núcleo: Pensamiento Matemático.
Capacidad: Razonamiento Lógico
Habilidad: Resolver



❖ ACTIVIDAD PARA REALIZAR EN NUESTRAS CLASES ONLINE.

Semana del 23 al 26 de noviembre según horario.

Instrucciones: Escucha con atención el problema y luego resuelve.

- No olvidar enviar la guía de trabajo al correo que se mencionará a continuación.

debo.hsalinas08@gmail.com

Educadora Pre-kínder A

carlaogaldepalacios@gmail.com

Educadora Pre-kínder B



Piensa y resuelve

Lisa tenía 4 hermosas flores

Decidió regalarle 2 a su abuelita.



¿Cuántas flores le quedaron?



(Tacha las flores que Lisa regaló)

Grafica la operación:

$$\square - \square = \square$$



❖ ACTIVIDAD PARA REALIZAR EN NUESTRAS CLASES ONLINE.

Semana del 23 al 26 de noviembre según horario.

Instrucciones: Escucha con atención el problema y luego resuelve.

- No olvidar enviar la guía de trabajo al correo que se mencionará a continuación.

debo.hsalinas08@gmail.com

Educadora Pre-kínder A

carlaogaldepalacios@gmail.com

Educadora Pre-kínder B



El pastelero horneó 2 pasteles de frutilla



y luego preparó 7 más de chocolate



¿Cuántos pasteles cocinó en total?

$$\square + \square = \square$$



❖ ACTIVIDAD PARA REALIZAR EN NUESTRAS CLASES ONLINE.

Semana del 23 al 26 de noviembre según horario.

Instrucciones: Escucha con atención el problema y luego resuelve.

- No olvidar enviar la guía de trabajo al correo que se mencionará a continuación.

debo.hsalinas08@gmail.com

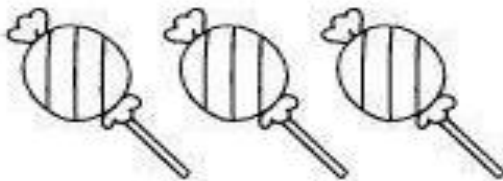
Educadora Pre-kínder A

carlaogaldepalacios@gmail.com


Educadora Pre-kínder B



Carlitos está feliz porque su papá le regaló 3 caramelos,



y su mamá le compró 5 más



¿Cuántos caramelos tiene ahora?

$$\square + \square = \square$$