




GUÍA DE MATEMÁTICA N° 2. Retroalimentación

“Números hasta 10”

NOMBRE	CURSO	1°A - B
	FECHA	/ / 21
Capacidad: Razonamiento lógico. Habilidades: identificar, contar. Capacidad: Resolución de problemas. Habilidad: resolver, representar Retroalimentación 2020		
INSTRUCCIONES: Imprimir esta guía para trabajarla en nuestras clases virtuales, Una vez realizada debes pegarla en el cuaderno. Si no puedes imprimirla realiza el desarrollo en tu cuaderno.		

1.- Cuenta cuántos elementos hay y escribe el número varias veces:

	_____
---	-------

	_____
--	-------

	_____
---	-------


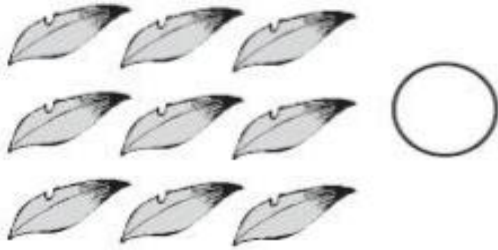

	_____
---	-------

	_____
---	-------







2.- Cuenta y escribe en el círculo la cantidad de elementos que hay en cada caso:

a)



b)







3- Dibuja elementos de acuerdo al número que se indica en cada recuadro:



4.- Cuenta cada grupo de figuras y une con su respectivo número:



6	7	8	9	10
---	---	---	---	----

