



Evaluación Formativa 3
Ciencias Naturales
Cuartos básicos

Profesora: Carmen Gloria Gallardo M.

Tema: La luz, el sonido y sus propiedades
 analizar – relacionar OA9

Semana del 17 al 21 de Mayo


















Porcentaje real	Porcentaje obtenido
100%	



Habilidades: Identificar – reconocer – clasificar-

NOMBRE: _____ CURSO: _____

Ítem I Clasifique las siguientes imágenes en LUZ NATURAL Y LUZ ARTIFICIAL (34%) (2% c/u)

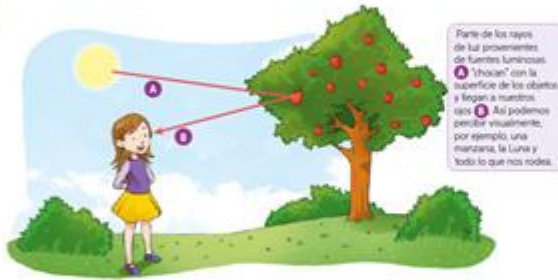
						
<input type="text"/>	<input type="text"/>	<input type="text"/>	<input type="text"/>	<input type="text"/>	<input type="text"/>	<input type="text"/>
						
<input type="text"/>	<input type="text"/>	<input type="text"/>	<input type="text"/>	<input type="text"/>	<input type="text"/>	<input type="text"/>
			<input type="text"/>	<input type="text"/>	<input type="text"/>	<input type="text"/>

Ítem II Complete el siguiente mapa conceptual, identificando las tres propiedades que tiene la luz, responda en la línea determinada con letra clara (15%) (5% c/u)

La luz posee
PROPIEDADES



1.- _____ El recorrido de la luz se manifiesta mediante RAYOS LUMINOSOS, que son líneas imaginarias... Estas se propagan a toda VELOCIDAD Y DIRECCIONES...



2.- _____ Es la propiedad de la luz que corresponde al CAMBIO DE DIRECCIÓN, que experimenta la luz CUANDO CHOCA CON UN OBJETO









3.- _____ Es la que experimenta al pasar de un medio a otro diferente, lo que generalmente va acompañado de un cambio de dirección.



Ítem III Identifique y clasifique encerrando con un círculo de color ROJO el sonido según su INTENSIDAD, encierre SOLAMENTE los sonidos FUERTES (20%) (2% c/u)



Ítem IV Identifique y clasifique los sonidos según su TONO, escriba G si es GRAVE y A si es AGUDO (16%) (2% c/u)

	
<input type="text"/>	<input type="text"/>
	
<input type="text"/>	<input type="text"/>
	
<input type="text"/>	<input type="text"/>
	
<input type="text"/>	<input type="text"/>

Ítem V En esta actividad debes colocar muchísima atención, estar muy concentrado y solicitar el máximo de silencio en tu casa, será solo por un momento, debes identificar y relacionar el sonido con su TIMBRE, reconocer a quién pertenece el sonido (15%) (1% c/u)

1.-	9.-
2.-	10.-
3.-	11.-
4.-	12.-
5.-	13.-
6.-	14.-
7.-	15.-
8.-	

profesoracarmengloriagallardo@gmail.com