



GUÍA DE MATEMÁTICA: RETROALIMENTACIÓN N° 1

“Números: contar por agrupaciones”

NOMBRE	CURSO	2°A-B
	FECHA	/ /

**Capacidad:** Razonamiento Lógico. Resolución de Problemas.

**Destrezas:** Contar, resolver

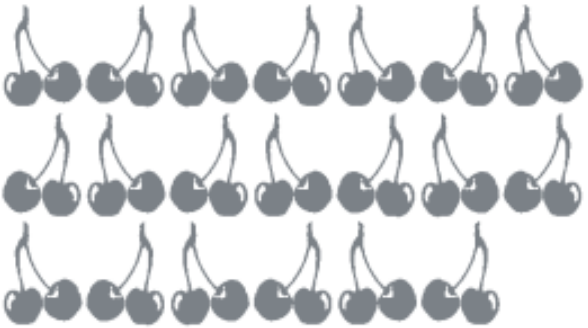
INSTRUCCIONES: Imprimir esta guía, pegarla y desarrollarla en tu cuaderno. Si no puedes imprimirla deja el espacio para la guía y sólo realiza el desarrollo en tu cuaderno poniendo el nombre de la guía. Cuando vuelvas se te entregará una copia para pegarla.

1.- Cuenta de 2 en 2 de forma oral y responde:

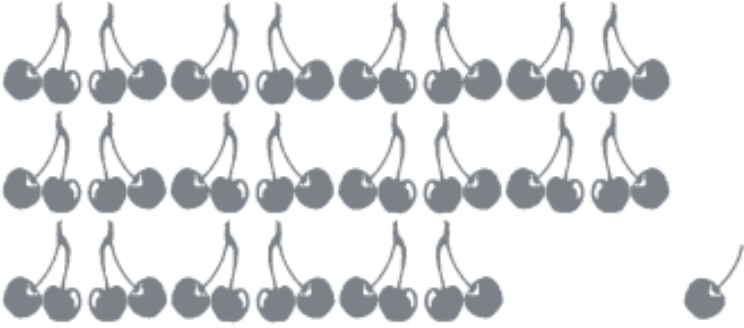
La mamá de Catalina compró cerezas y le dijo que podía comerse todas las que vinieran unidas de a 2.

Estas son las cerezas que se comió Catalina.

¿Cuántas cerezas se comió Catalina?



**Respuesta:**  
Catalina se comió ..... cerezas.



¿Cuántas cerezas hay?

**Respuesta:**  
Hay ..... cerezas.



Noé hizo entrar a su arca a los animales de 2 en 2.

Un día entraron todos estos animales:

2 gatos, 2 perros, 2 loros, 2 caballos, 2 chanchos, 2 pollos,  
2 gansos, 2 patos, 2 cabras, 2 pavos, 2 burros, 2 ovejas,  
2 vacas, 2 canarios, 2 conejos, 2 huemules y 2 cóndores.




¿Cuántos animales entraron al arca ese día?

Respuesta:

Ese día entraron al arca ..... animales.

2.- Cuenta de 5 en 5, de forma oral y responde:


Para vender limones en la feria, la señora Matilde los ordenó así:



¿Cuántos limones hay?

Respuesta:

Hay ..... limones.



¿Cuántos limones hay?

Respuesta:

Hay ..... limones.



Don Ricardo vende ajos en la feria. Los vende por grupos de 5 ajos. Un día vendió 10 grupos.

¿Cuántos ajos vendió don Ricardo?

Respuesta:

Don Ricardo vendió ..... ajos.