



GUÍA DE MATEMÁTICA N°3. EVALUACIÓN FORMATIVA UNIDAD 1: "Conocer los números hasta 500"

NOMBRE				CURSO	2° Básico A-B
				FECHA DE ENTREGA	12/05/20
Capacidades: Resolución de problemas. Razonamiento lógico.				PUNTAJE	/ 36
Destrezas: Identificar, contar, representar y resolver.				CONCEPTO	
MB [28 , 36]	B [19 , 27]	S [10 , 18]	I [1 , 9]		
INSTRUCCIONES: Imprimir y desarrollar esta guía de evaluación formativa, la cual tiene por finalidad evaluar las habilidades trabajadas en la guía 1 y 2(durante nuestro trabajo virtual). Si no puedes imprimirla sólo realiza el desarrollo en un cuaderno poniendo el nombre de la guía. Cuando vuelvas se te entregará una copia para pegarla. Una vez que ya respondiste, debes enviar la foto a mi correo: sctoledoa@gmail.com con nombre y curso, para revisar, retroalimentar y contestar dudas. Fecha máxima de entrega martes 12 de mayo.					

1.- Observa la tabla de 100 y completa (21 pts)

1	2	3	4	5	6	7	8	9	10
11	12	13	14	15	16	17	18	19	20
21	22	23	24	25	26	27	28	29	30
31	32	33	34	35	36	37	38	39	40
41	42	43	44	45	46	47	48	49	50
51	52	53	54	55	56	57	58	59	60
61	62	63	64	65	66	67	68	69	70
71	72	73	74	75	76	77	78	79	80
81	82	83	84	85	86	87	88	89	90
91	92	93	94	95	96	97	98	99	100

50 - 52 - 54 - - - - - - -

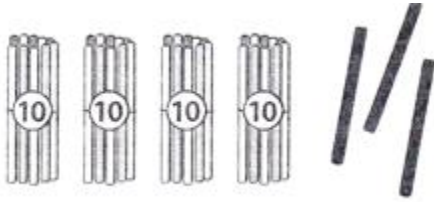
47 - 49 - 51 - - - - - - -

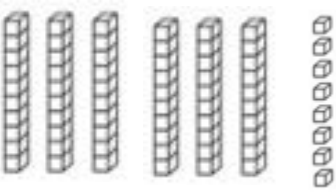
35 - 38 - 41 - - - - - - -

2.- Diego cuenta las ruedas de sus 6 bicicletas de 2 en 2 ¿Cuántas ruedas cuenta en total? Representa con un dibujo y responde. (2 pts)



3.- Observa las representaciones; escribe la cantidad de cada una en dígitos y palabras (4 pts)

a)  _____

b)  _____

4.- Pinta en el tablero los siguientes números (4 pts)

Setenta y seis (Rojo)

Sesenta y siete (Verde)

Noventa y uno (Azul)










Cien (Morado)

51	52	53	54	55	56	57	58	59	60
61	62	63	64	65	66	67	68	69	70
71	72	73	74	75	76	77	78	79	80
81	82	83	84	85	86	87	88	89	90
91	92	93	94	95	96	97	98	99	100


5.- Completa la tabla: (5 pts)

Número	Se lee
9 8	
	Cincuenta y cinco
7 9	
6 2	
	Ochenta y cuatro

6.- Pinta la carita correspondiente a tus aprendizajes:

Identifico números hasta el 100	  
Cuento de 2 en 2, 5 en 5, 10 en 10 hacia adelante y atrás hasta cien	  
Represento hasta 100 con diferentes materiales	  

 Siempre

 Algunas veces

 Nunca



Profesora: Susana Toledo

